

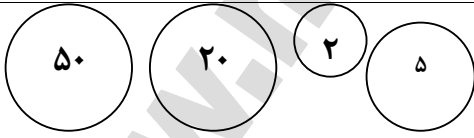


نام و نام خانوادگی:
نام پدر:
کلاس: دوم ابتدایی
ردیف:

باسمه تعالی
سازمان آموزش و پرورش
استان اصفهان
مدیریت آموزش و پرورش نایین
دبستان

نام امتحان: ریاضی
تاریخ امتحان: خردادماه
وقت امتحان: ۶۰ دقیقه
سال تحصیلی ۸۴-۸۵

بارم	سؤالات	نمره
۱	۵۶ برابر است با یکی و ده تایی. ۵ صد تایی و ۴ یکی می شود ۹۲ برابر است با یکی و ۸ ده تایی	۱
۰/۵	۳ متر و ۷۵ سانتی متر یعنی سانتی متر.	۲
۰/۵	عددی سه رقمی بنویسید که رقم‌های آن مثل هم باشد.....	۳
۱	برای تفریق زیر یک محور اعداد بکشید و جواب آن را بنویسید. $11 - 8 = \dots\dots\dots$	۴
۲	برای شکل زیر دو جمع و دو تفریق بنویسید.  $\dots\dots\dots + \dots\dots\dots = \dots\dots\dots$ $\dots\dots\dots - \dots\dots\dots = \dots\dots\dots$ $\dots\dots\dots + \dots\dots\dots = \dots\dots\dots$ $\dots\dots\dots - \dots\dots\dots = \dots\dots\dots$	۵
۱/۵	در گلخانه‌ی احمد ۱۳ گل زرد و ۲۴ گل قرمز و ۵۸ گل صورتی وجود دارد. در این گلخانه چند گل وجود دارد؟	۶
۱	در مربع علامت < = > بگذارید، $136 \square 631$ ده تایی ۹ \square صد تایی ۵ $10 + 4 \square 7 + 7$ $13 - 6 \square 13 - 8$	۷
۱/۵	دنباله‌ی اعداد زیر را بنویسید. $797 - 798 - \dots\dots\dots - \dots\dots\dots$ $18 - 21 - \dots\dots\dots - \dots\dots\dots$ $12 - 14 - \dots\dots\dots - \dots\dots\dots$	۸
۰/۵	با توجه به شکل در جای خالی عدد مناسب بنویسید.	۹

 چهار تا می شود											
	جدول زیر را کامل کنید.											
۲	<table border="1"> <tr> <td></td> <td>هفتصد و سی</td> <td></td> <td>سیصد و نه</td> <td>با حروف</td> </tr> <tr> <td>۲۱۶</td> <td></td> <td>۵۲۶</td> <td></td> <td>با عدد</td> </tr> </table>		هفتصد و سی		سیصد و نه	با حروف	۲۱۶		۵۲۶		با عدد	۱۰
	هفتصد و سی		سیصد و نه	با حروف								
۲۱۶		۵۲۶		با عدد								
۲	$\begin{array}{r} ۳۴۱ \\ - ۱۲۸ \\ \hline \end{array}$ $\begin{array}{r} ۸۲۴ \\ + ۱۹۷ \\ \hline \end{array}$	جمع و تفریق کنید.	۱۱									
۱/۵	$۷ + \square = ۱۰$ $۹ + ۷ = ۱۰ + \square$ $۸ - \square = ۵$ $(۷ + ۳) + ۵ = ۷ + (۳ + \dots) = \square$	در جای خالی عدد مناسب بنویسید.	۱۲									
۱	 <p>.....</p> <p>.....</p> <p>.....</p> <p>.....</p>	نام شکل‌های زیر را بنویسید.	۱۳									
۱		ساعت چند است؟ ساعت و دقیقه دقیقه مانده به ساعت	۱۴									
۱	<p>یک خط راست و یک خط خمیده بکشید که هم دیگر را در دو نقطه قطع کنند. نقطه‌های مشترک را پررنگ کنید.</p>		۱۵									
۱		چند ریال است؟	۱۶									
۱	<p>پدر احمد در مزرعه ۱۶۴ بوته‌ی گوجه فرنگی کاشت. ۲۸ تای آن خشک شد. چند بوته باقی مانده است؟</p>		۱۷									